



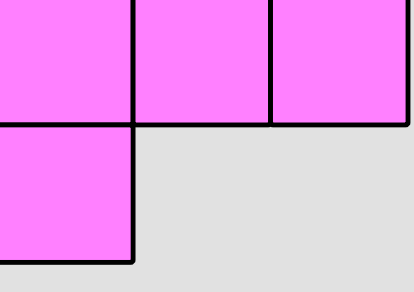

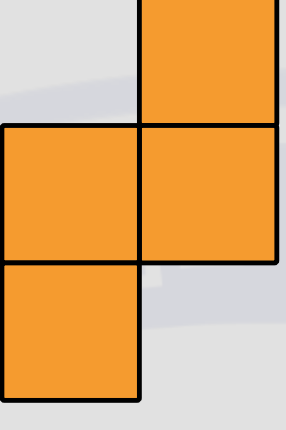


இயல் 7.6 தகவல் செயலாக்கம்

பயிற்சி எண் :: 7.6.2.2.C

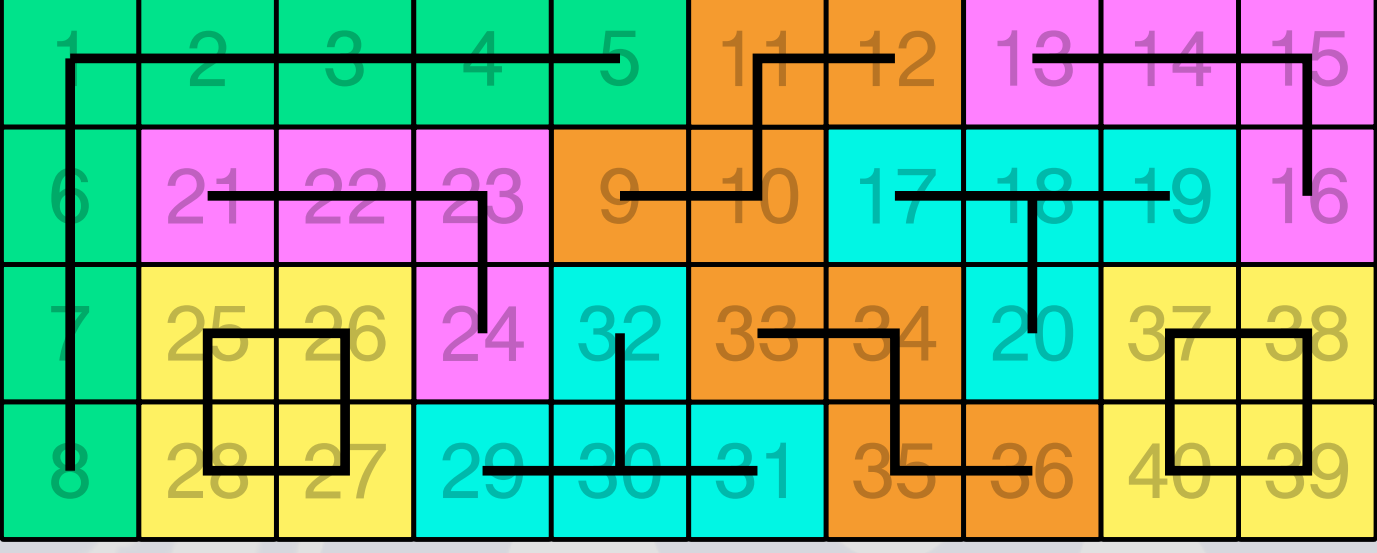
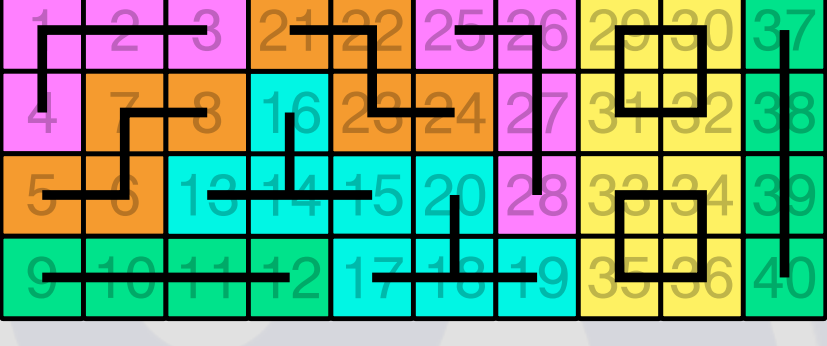
தகவல் செயலாக்கம் - மேற்சிந்தனைக் கணக்குகள் - தநாஅபு - பயிற்சி 6.2.6-7

தகவல் செயலாக்கம் - மேற்சிந்தனைக் கணக்குகள் - தநாஅபு - பயிற்சி 6.2.6-7


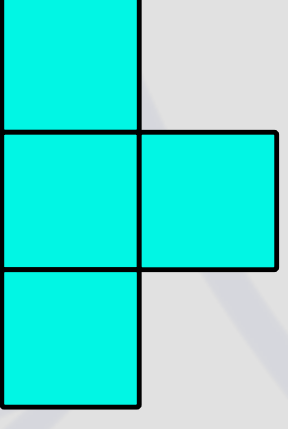



6. ஐந்து நாற்சதுர இணைகளை இருமுறை பயன்படுத்தி 4×10 வரிசையமைப்புடைய செவ்வகத்தை நிரப்புக.

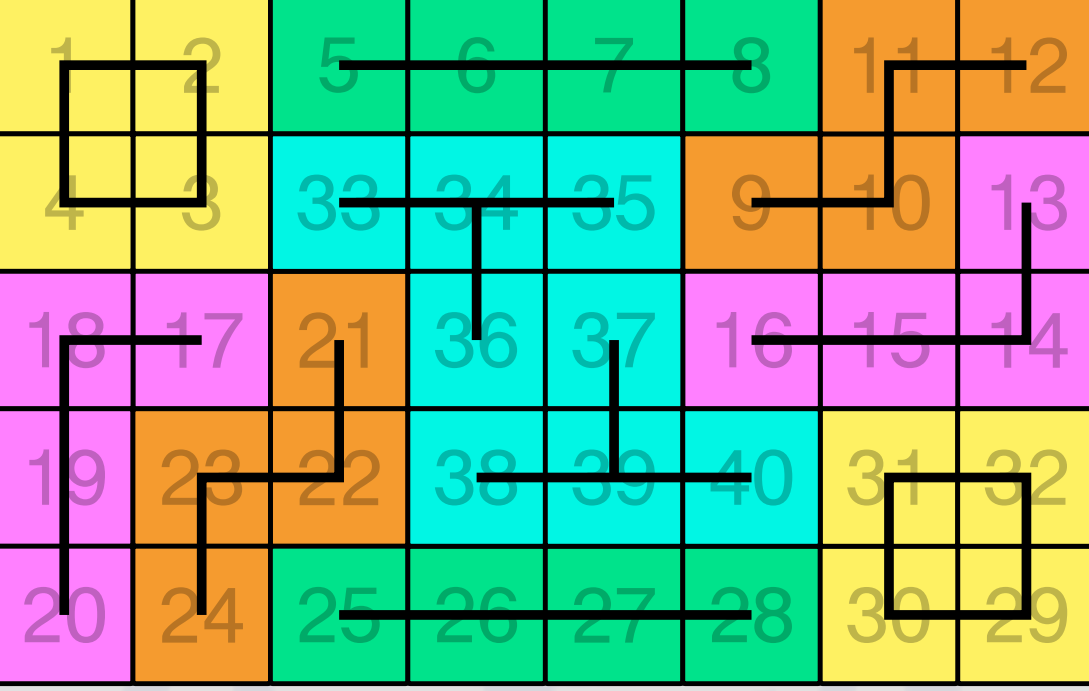
(i)  (ii)  (iii)  (iv)  (v) 

மேலும் சில தீர்வுகள் - உதாரணமாக

7. ஐந்து நாற்சதுர இணைகளை இருமுறை பயன்படுத்தி 8×5 வரிசையமைப்புடைய செவ்வகத்தை நிரப்புக.

(i)  (ii)  (iii)  (iv)  (v) 



இதன் காணொளியின் YouTube இணையதள இணைப்பு (YouTube URL)

<https://youtu.be/p34rxEGJepY>

Information Rights & Disclaimers

Sum & solution prepared on Tuesday 17th January, 2023 :: 10:00 Hrs.

All rights related to all contents given in this website and in all its links such as Structure, problem creation, problem presentation, solution, solution presentation, presentation style, solution model given in the PDFs & Videos, voice over content, style of presentation, Video creation & its theme, presentation, presentation style and model are reserved to;

V K Ramaswamy Iyengar & Chellammal Educational Trust, Coimbatore - 641 046, Tamilnadu, INDIA. Regd.R/Vadavalli/Book-4/16/2020 dt.31-Jan-2020.

<https://ramaswamychellammaltrust.org> § info@ramaswamychellammaltrust.org

Being the very purpose; viewing, browsing and downloading the contents for learning, training, coaching and teaching purpose are jointly and severally **well permitted**. However, doing so for commercial purpose(s) is/are **strictly prohibited**.