

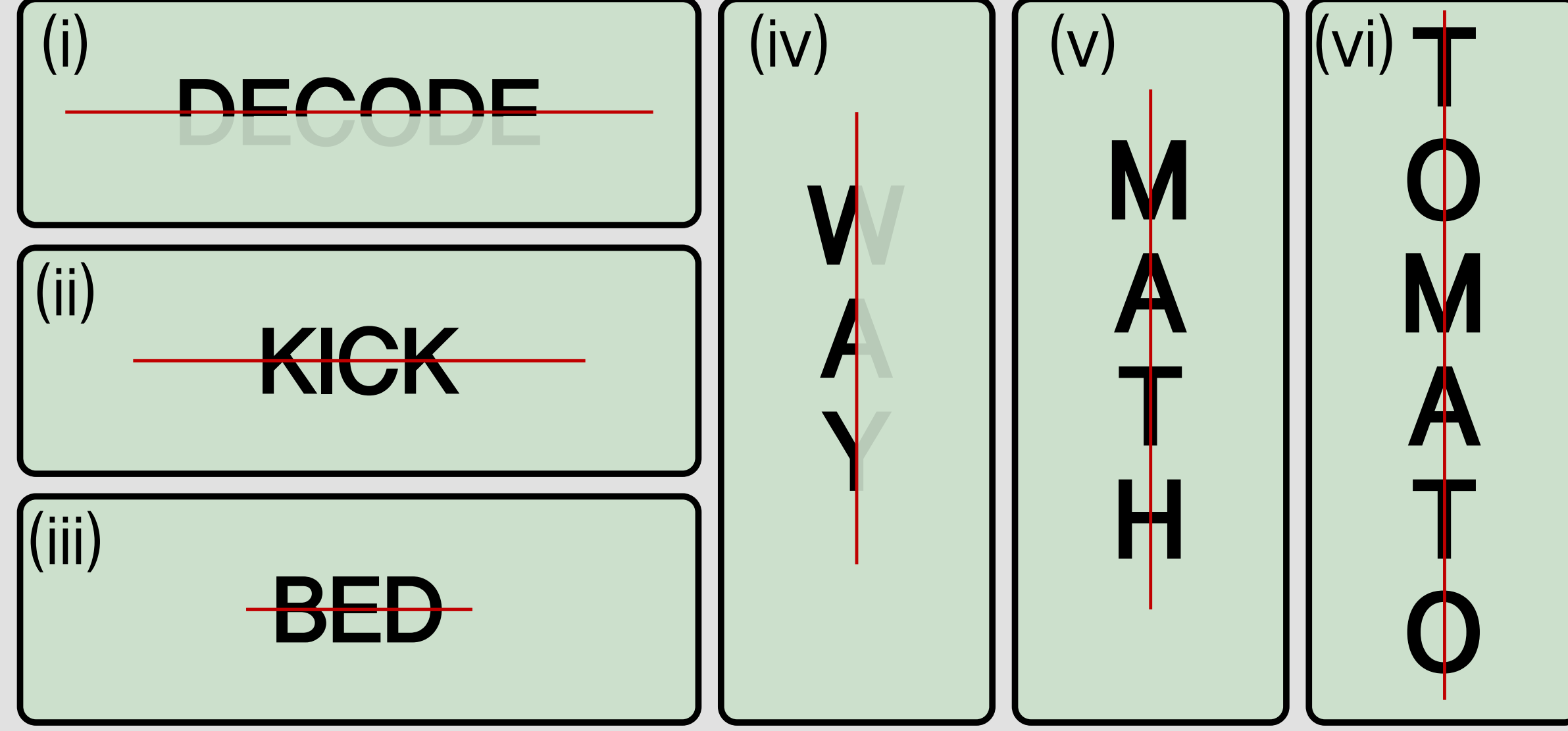
இயல் 6.12 - சமச்சீர்த் தன்மை

பயிற்சி எண் :: 6.12.2.1.C

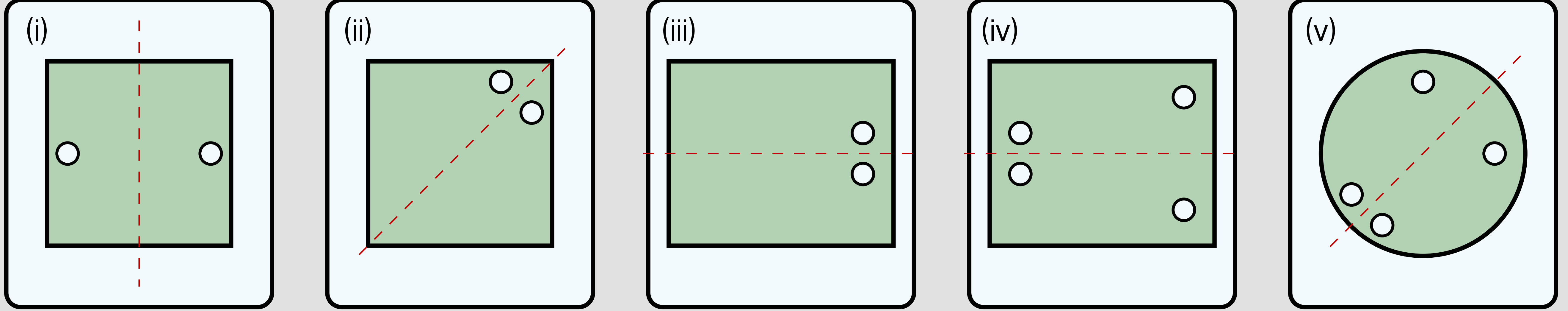
சமச்சீர்த் தன்மை - சமச்சீர் கோடு வரைக - தநாஅபு பயிற்சி 4.1.5-7

சமச்சீர்த் தன்மை - சமச்சீர் கோடு வரைக - தநாஅபு பயிற்சி 4.1.5-7

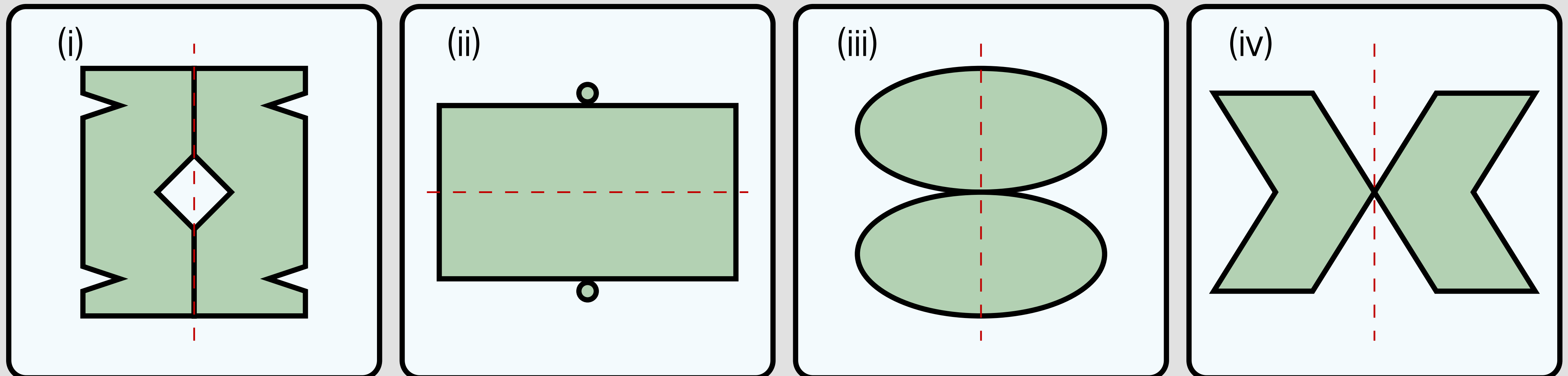
5. கொடுக்கப்பட்டுள்ள குத்துக்கோடு / கிடைமட்டக்கோட்டினை சமச்சீர்க் கோடாகக் கொண்டு, ஒவ்வொரு எழுத்தையும் முழுமை செய்து மறைந்துள்ள சொற்களைக் கண்டுபிடிக்க.



6. ஒரு பகுதியில் உள்ள துளைகள் மற்றொரு பகுதியில் உள்ள துளைகளுடன் சரியாகப் பொருந்துமாறு கொடுக்கப்பட்ட வடிவங்களுக்குச் சமச்சீர்க் கோடு வரைக.



7. புள்ளிக் கோட்டினைச் சமச்சீர்க் கோடாகக் கொண்டு பின்வரும் படங்களை நிறைவு செய்க.



Information Rights & Disclaimers

Sum & solution prepared on Monday 9th May, 2022 :: 17:51 Hrs.

All rights related to all contents given in this website and in all its links such as Structure, problem creation, problem presentation, solution, solution presentation, presentation style, solution model given in the PDFs & Videos, voice over content, style of presentation, Video creation & its theme, presentation, presentation style and model are reserved to;

V K Ramaswamy Iyengar & Chellammal Educational Trust, Coimbatore - 641 046, Tamilnadu, INDIA. Regd.R/Vadavalli/Book-4/16/2020 dt.31-Jan-2020.

<https://ramaswamycheellammaltrust.org> § info@ramaswamycheellammaltrust.org

Being the very purpose; viewing, browsing and downloading the contents for learning, training, coaching and teaching purpose are jointly and severally **well permitted**. However, doing so for commercial purpose(s) is/are **strictly prohibited**.