



இயல் 6.12 - சமச்சீர்த் தன்மை

பயிற்சி எண் :: 6.12.2.1.B

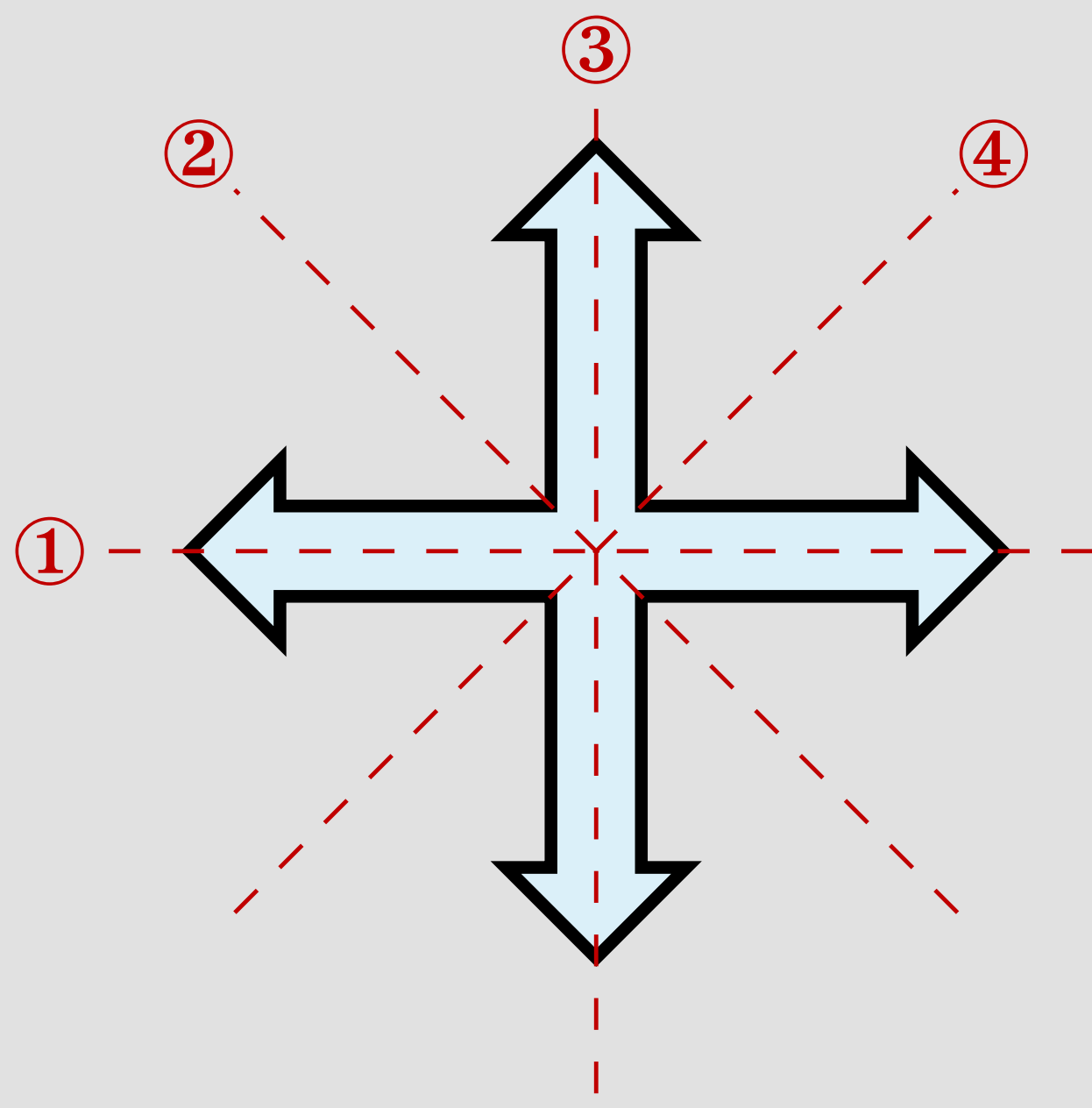
சமச்சீர்த் தன்மை - பொருத்துக - தநாஅபு பயிற்சி 4.1.3-4

சமச்சீர்த் தன்மை - பொருத்துக - தநாஅபு பயிற்சி 4.1.3-4

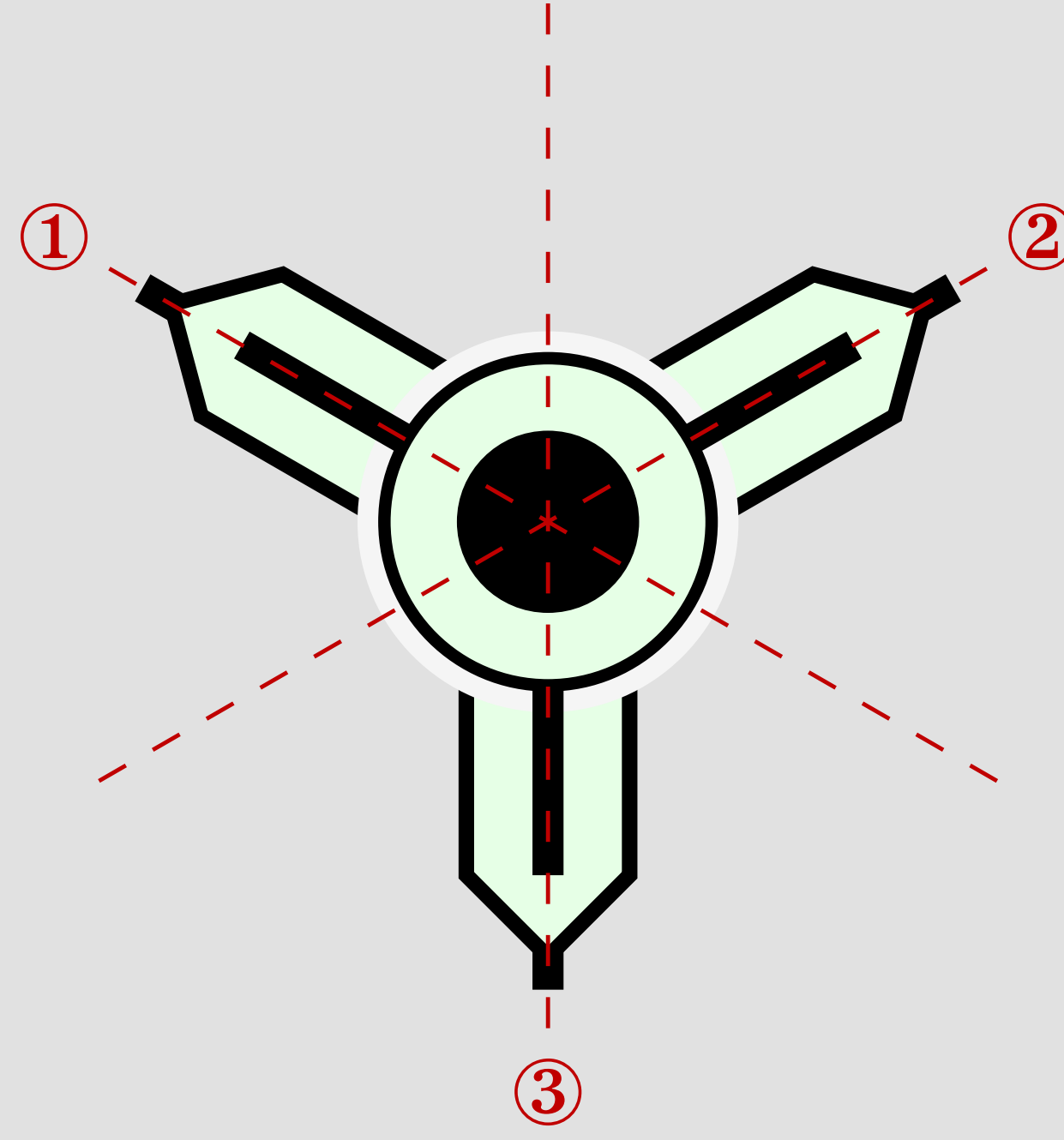
3. பின்வரும் வடிவங்களை அவற்றின் சமச்சீர்க் கோடுகளின் எண்ணிக்கையைக் கொண்டு பொருத்துக.

i)	சதுரம்	②	அ)	சமச்சீர்க்கோடு இல்லை	
ii)	இணைகரம்	③	ஆ)	ஒரு சமச்சீர்க்கோடு	
iii)	இரு சமபக்க முக்கோணம்	④	இ)	இரு சமச்சீர்க்கோடுகள்	
iv)	செவ்வகம்	①	ஈ)	நான்கு சமச்சீர்க்கோடுகள்	

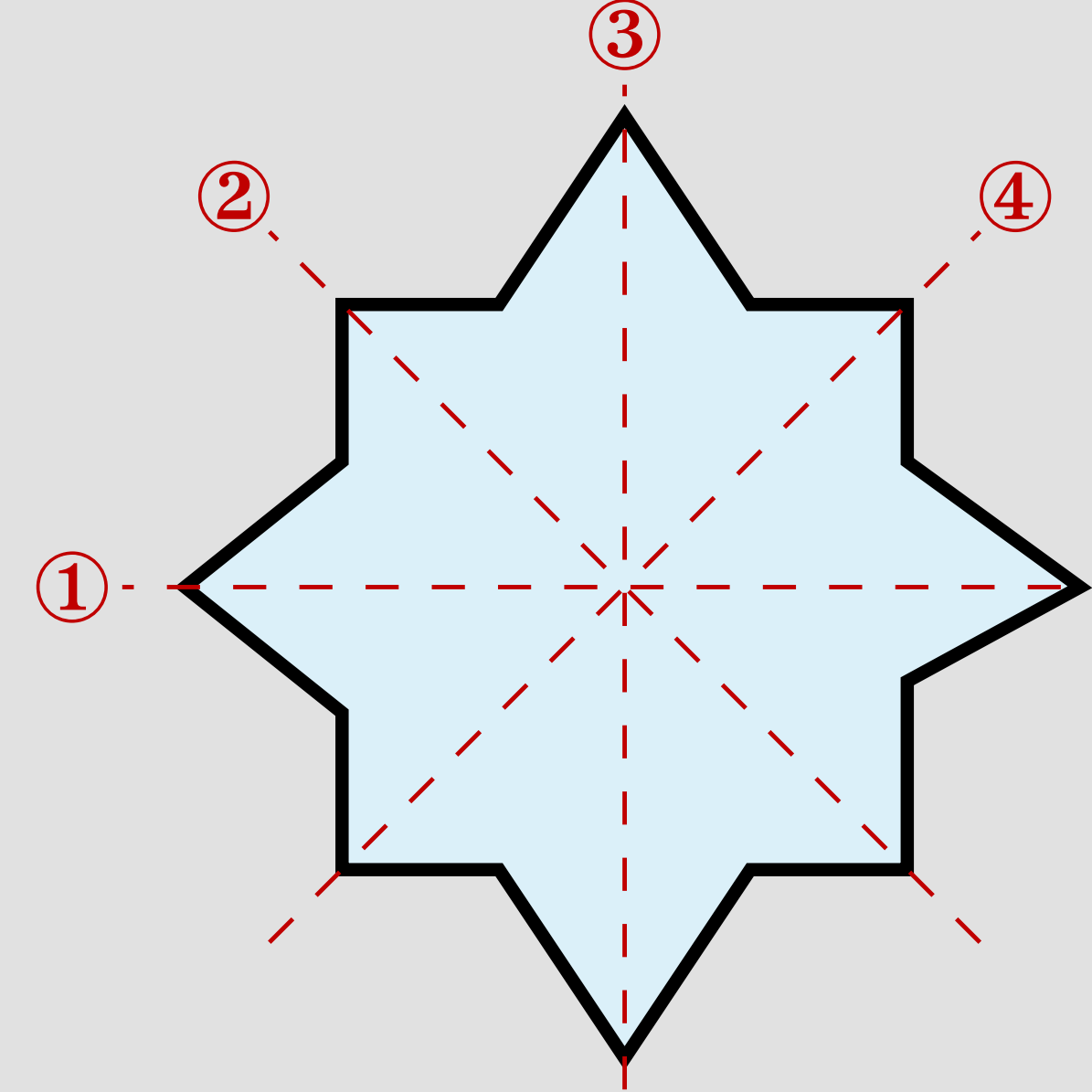
4. பின்வருவனவற்றிற்குச் சமச்சீர்க்கோடுகள் வரைக.



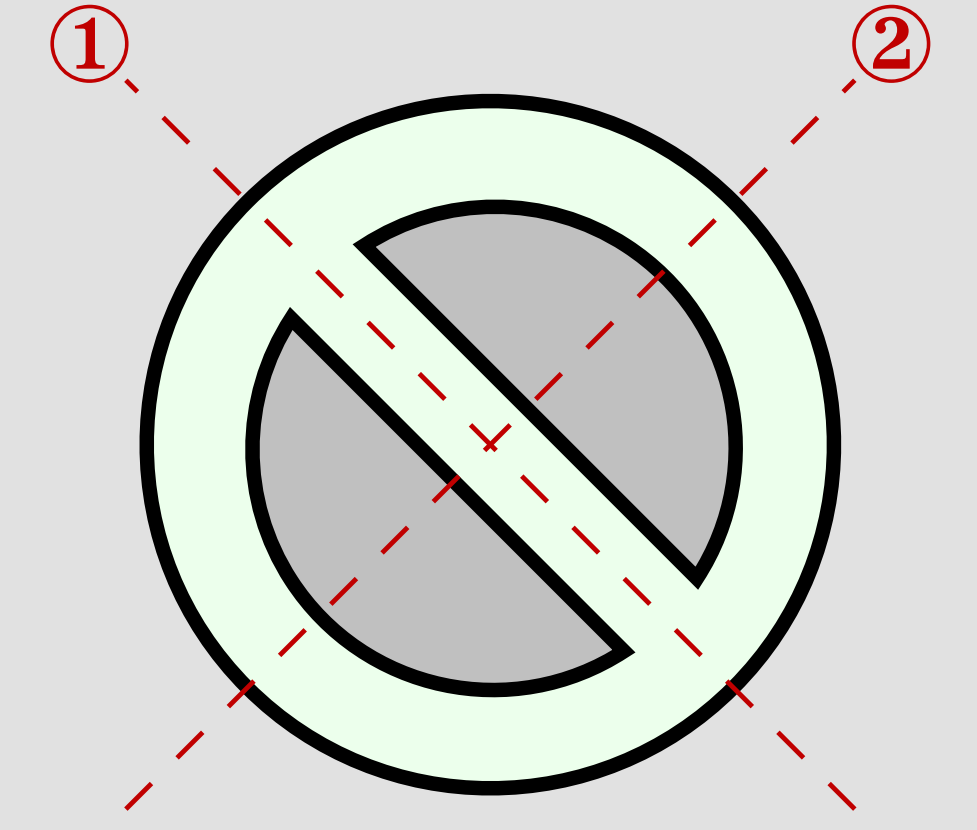
நான்கு சமச்சீர் கோடுகள்



மூன்று சமச்சீர் கோடுகள்



நான்கு சமச்சீர் கோடுகள்



இரு சமச்சீர் கோடுகள்

Information Rights & Disclaimers

Sum & solution prepared on Monday 9th May, 2022 :: 17:51 Hrs.

All rights related to all contents given in this website and in all its links such as Structure, problem creation, problem presentation, solution, solution presentation, presentation style, solution model given in the PDFs & Videos, voice over content, style of presentation, Video creation & its theme, presentation, presentation style and model are reserved to;

V K Ramaswamy Iyengar & Chellammal Educational Trust, Coimbatore - 641 046, Tamilnadu, INDIA. Regd.R/Vadavalli/Book-4/16/2020 dt.31-Jan-2020.

<https://ramaswamyhellammaltrust.org> § info@ramaswamyhellammaltrust.org

Being the very purpose; viewing, browsing and downloading the contents for learning, training, coaching and teaching purpose are jointly and severally **well permitted**. However, doing so for commercial purpose(s) is/are **strictly prohibited**.