



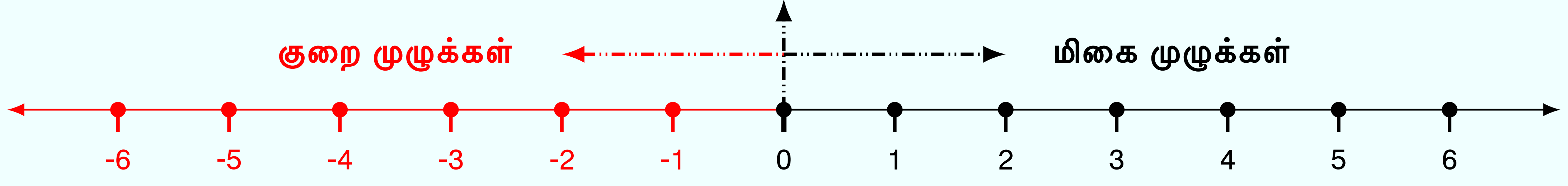
இயல் 6.10 - முழுக்கள்

பயிற்சி எண் :: 6.10.1.2.A

முழுக்கள் - புரிதல்

முழுக்கள் - புரிதல்

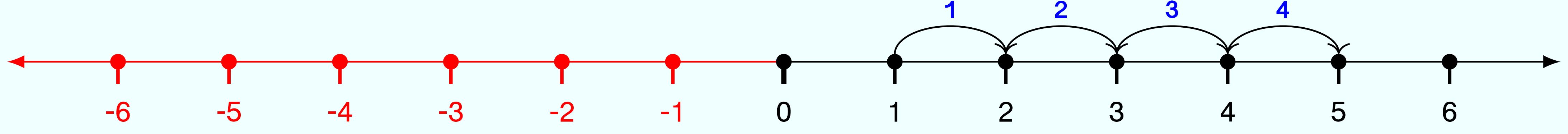
முழுக்களின் மிகை மற்றும் குறை முழுக்களின் பகுதிகளின் கட்டமைப்பை சில உதாரணங்கள் மூலம் விளக்குக.



வினா - 1

1-உடன் 4-ஐ சேர்த்தால் கிடைக்கும் எண் என்ன?

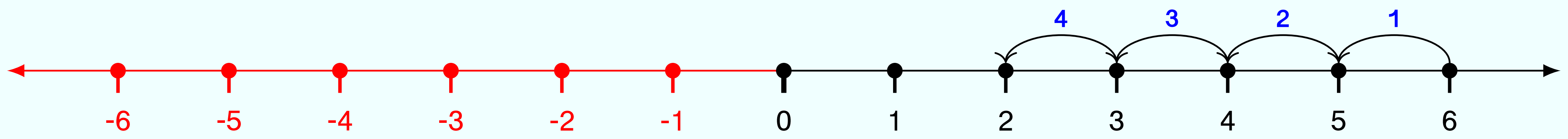
5



வினா - 2

6-லிருந்து 4-ஐ குறைத்தால் கிடைக்கும் எண் என்ன?

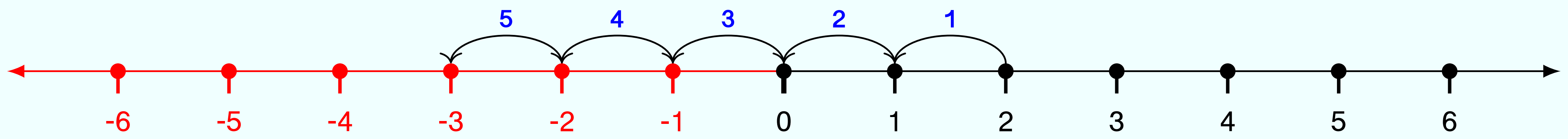
2



வினா - 3

2-லிருந்து 5-ஐ குறைத்தால் கிடைக்கும் எண் என்ன?

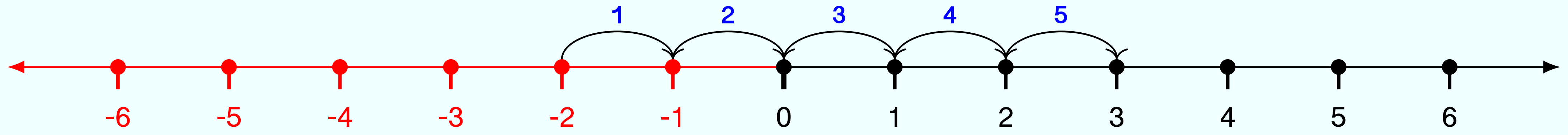
-3



வினா - 4

-2-உடன் 5-ஐ சேர்த்தால் (கூட்டினால்) கிடைக்கும் எண் என்ன?

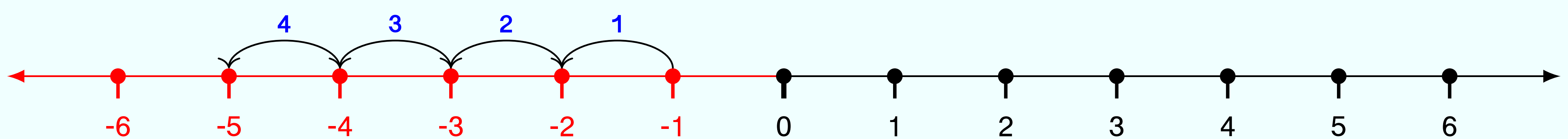
3



வினா - 5

-1 - லிருந்து 4-ஐ குறைத்தால் (கழித்தால்) கிடைக்கும் எண் என்ன?

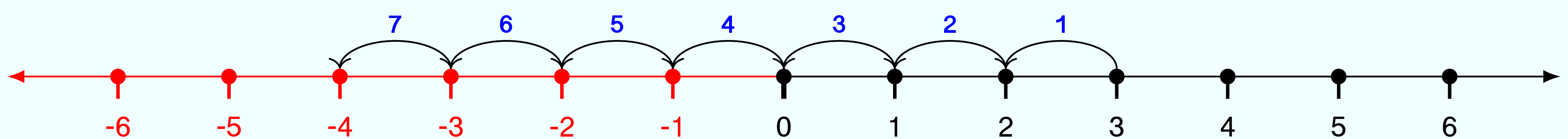
-5



வினா - 6

3 - லிருந்து 7-ஐ கழித்தால் கிடைக்கும் எண் என்ன? $3-7 = ?$

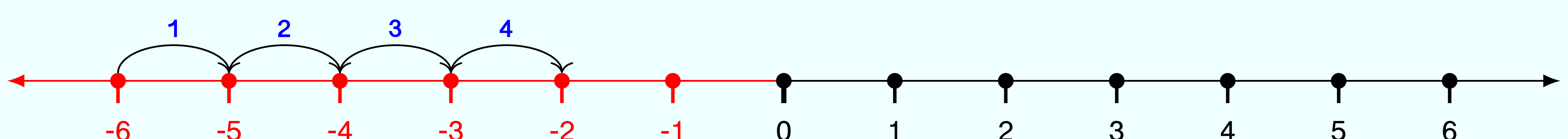
-4



வினா - 7

-6 - உடன் 4-ஐ கூட்டினால் கிடைக்கும் எண் என்ன? $-6+4 = ?$

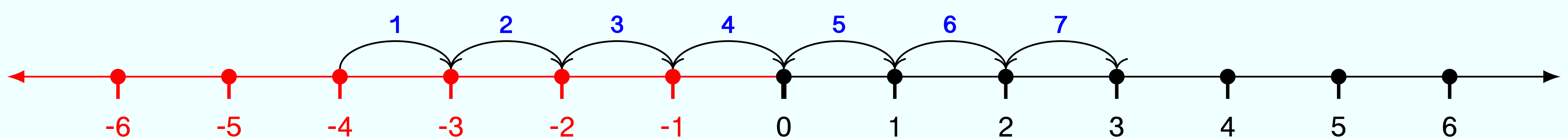
-2



வினா - 8

-4 - உடன் 7-ஐ கூட்டினால் கிடைக்கும் எண் என்ன? $-4+7 = ?$

3



Information Rights & Disclaimers

Sum & solution prepared on Wednesday 23rd February, 2022 :: 10:19 Hrs.

All rights related to all contents given in this website and in all its links such as Structure, problem creation, problem presentation, solution, solution presentation, presentation style, solution model given in the PDFs & Videos, voice over content, style of presentation, Video creation & its theme, presentation, presentation style and model are reserved to;

V K Ramaswamy Iyengar & Chellammal Educational Trust, Coimbatore - 641 046, Tamilnadu, INDIA. Regd.R/Vadavalli/Book-4/16/2020 dt.31-Jan-2020.

<https://ramaswamybellammaltrust.org> § info@ramaswamybellammaltrust.org

Being the very purpose; viewing, browsing and downloading the contents for learning, training, coaching and teaching purpose are jointly and severally **well permitted**. However, doing so for commercial purpose(s) is/are **strictly prohibited**.