



இயல் 6.6 - தகவல் செயலாக்கம்

பயிற்சி எண் :: 6.6.2.3.C

மரவுரு வரைபடம் - மேற்சிந்தனைக்
கணக்குகள் - தநாஅபு - பயிற்சி 5.2.5-7

மரவுரு வரைபடம் - மேற்சிந்தனைக் கணக்குகள் - தநாஅபு - பயிற்சி 5.2.5-7

பின்வரும் வினாக்களை மரவுரு வரைபடமாக மாற்றுக.

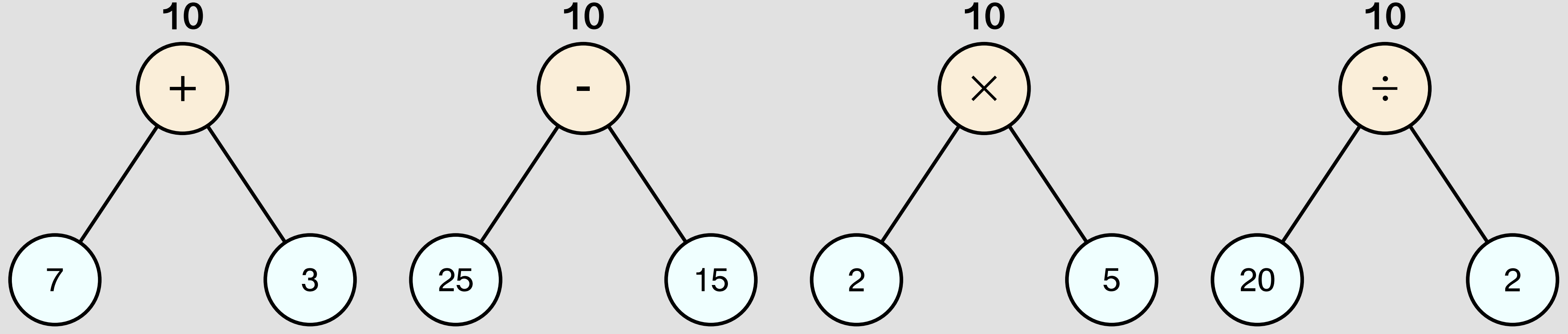
(5) 10-ஐ விடையாகத் தரக்கூடிய எண்கோவையை எழுதுக. அதனை மரவுரு வரைபடமாக மாற்றுக.

$$(7 + 3)$$

$$(25 - 15)$$

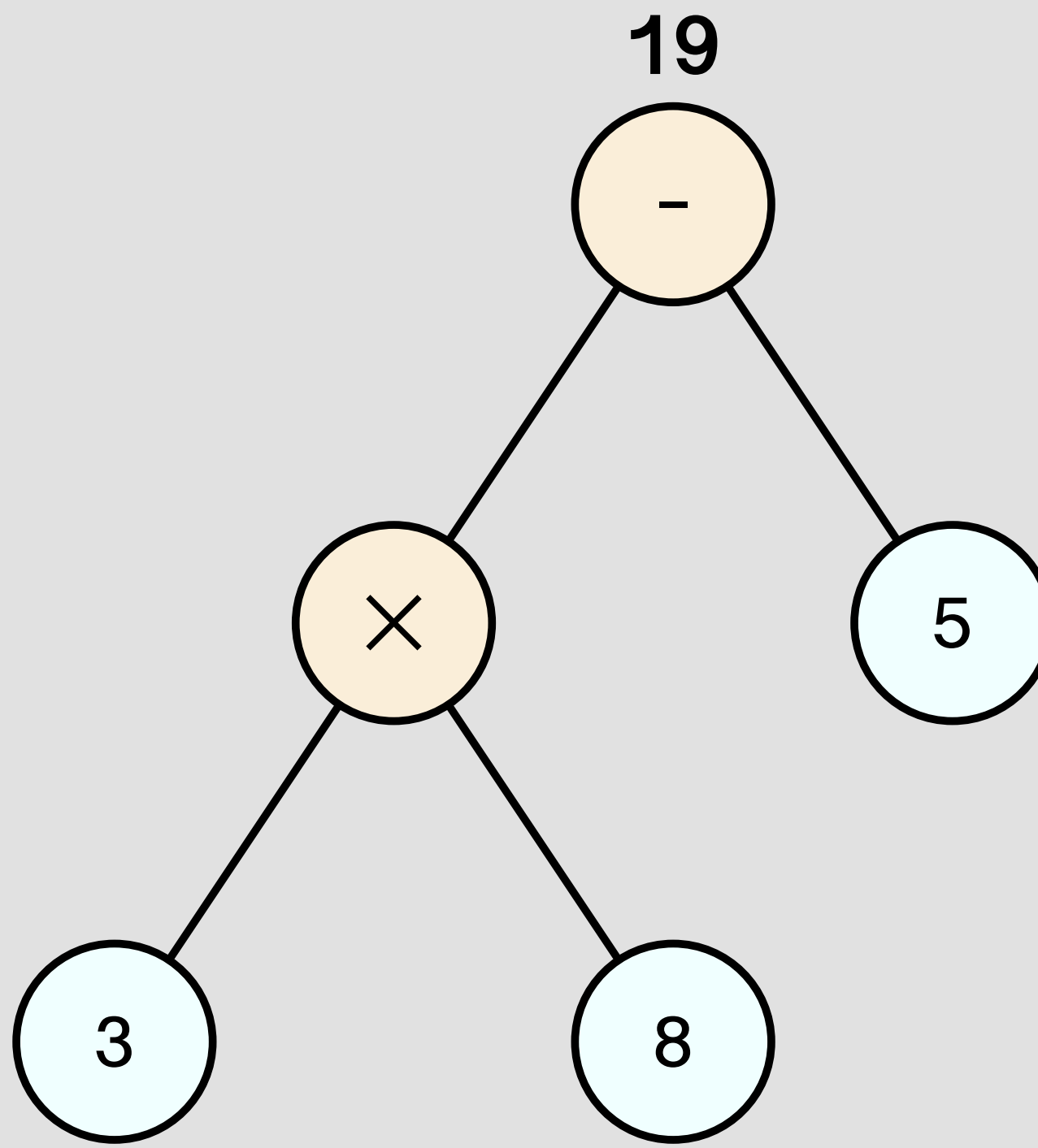
$$(2 \times 5)$$

$$(20 \div 2)$$



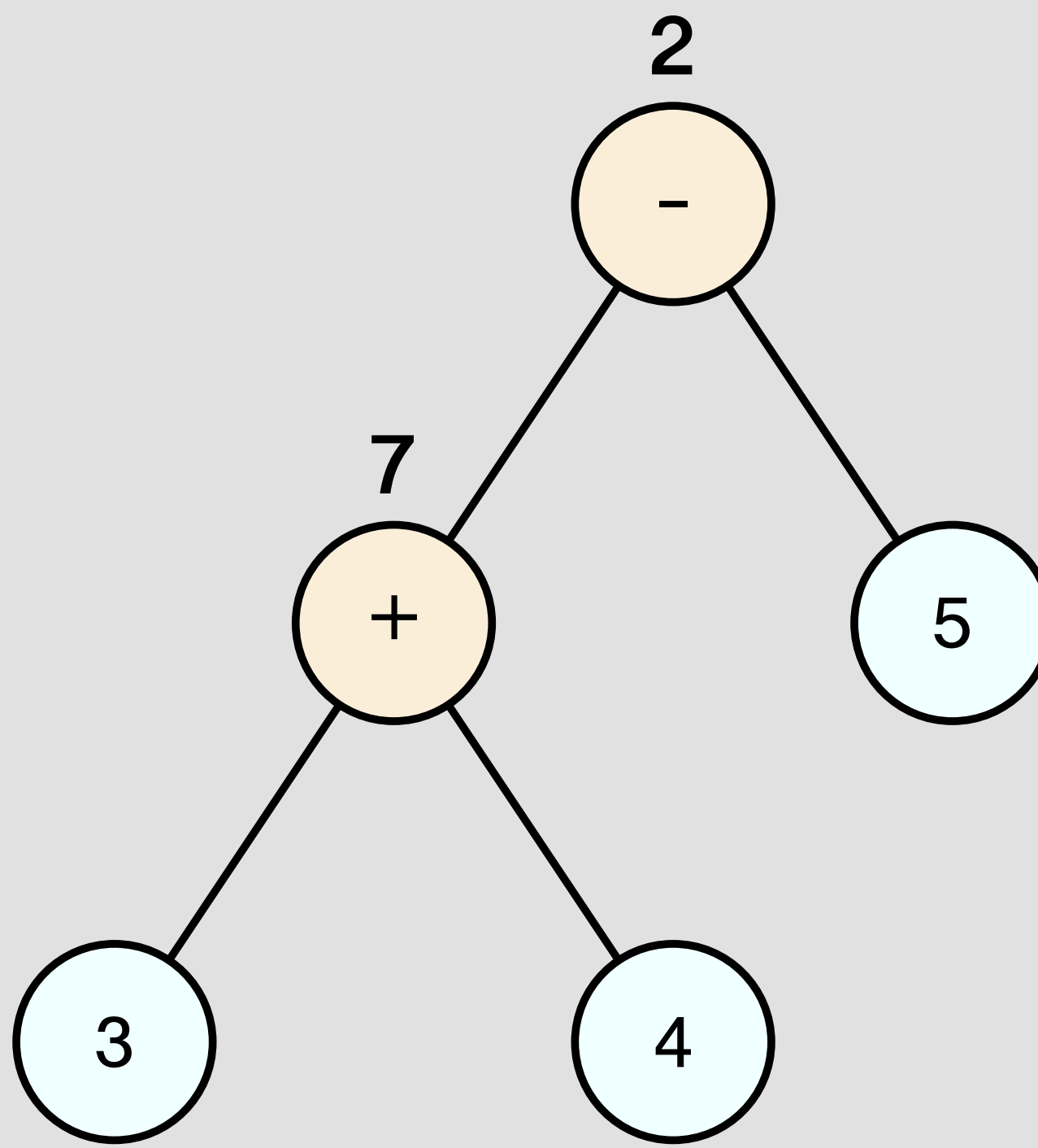
(6) எண்கோவை $3 \times 8 - 5$ - இன் மதிப்பு 19 ஆக கிடைக்குமாறு தகுந்த இடத்தில் அடைப்புக்குறியைப் பயன்படுத்தவும். மேலும் எண்கோவையை மரவுருவில் வரைக.

$$(3 \times 8) - 5$$



(7) ஒரு கால்பந்து குழு அடுத்தடுத்த 2 நாட்களில் 3 மற்றும் 4 புள்ளிகளைப் பெற்றது. 3-ஆவது நாளில் 5 புள்ளிகளை இழந்தது. அக்குழு பெற்ற மொத்தப் புள்ளிகள் எத்தனை? இதனை மரவுரு வரைபடத்தில் குறிக்க.

$$3 + 4 - 5 = 2$$



Information Rights & Disclaimers

Sum & solution prepared on Thursday 30th December, 2021 :: 17:48 Hrs.

All rights related to all contents given in this website and in all its links such as Structure, problem creation, problem presentation, solution, solution presentation, presentation style, solution model given in the PDFs & Videos, voice over content, style of presentation, Video creation & its theme, presentation, presentation style and model are reserved to;

V K Ramaswamy Iyengar & Chellammal Educational Trust, Coimbatore - 641 046, Tamilnadu, INDIA. Read :: 4/16/2020 dt. January 31, 2020.

<https://ramaswamychellammaltrust.org> § info@ramaswamychellammaltrust.org

Being the very purpose; viewing, browsing and downloading the contents for learning, training, coaching and teaching purpose are jointly and severally **well permitted**. However, doing so for commercial purpose(s) is/are **strictly prohibited**.